

2023-2024 Eğitim-Öğretim Yılı Hacı Murad-ı Veli İmam Hatip Ortaokulu 5.Sınıf Matematik Dersi
1.Dönem 1.Yazılı Örnek Soruları

Adı Soyadı:

Aldığı Puan:

Numarası ve Sınıfı:

1) Aşağıda verilen işlemlerde verilmeyen rakamları bulunuz.(10 puan)

$$\begin{array}{r} 9A \ 21B \\ - \ 2 \ C13 \\ \hline 89 \ 204 \end{array}$$

A=

B=

C=

b) 51 M76

$$\begin{array}{r} + \ 42 \ 98N \\ \hline 9K \ 863 \end{array}$$

K=

M=

N=


2) Aşağıda verilen işlemleri yapınız.(10 puan)

$$\begin{array}{r} a) \ 125 \\ \times \ 27 \\ \hline \end{array}$$


$$\begin{array}{r} b) \ 2520 \ | \ 24 \\ \hline \end{array}$$

3) Bir ormanda bulunan 2115 tane ağaçtan 710 tanesi Çam, 325 tanesi Ladin ağacıdır. Geriye kalan ağaçlar Meşe ağacı olduğuna göre ormanda kaç tane meşe ağacı vardır?


6)



1. Adım



2. Adım



3. Adım

Yukarıda verilen şekil örüntüsüne göre;

a) Örüntünün 5. Adımındaki kare sayısını bulunuz.(3 puan)

b) Örüntünün kaçınıcı adımında 24 kare olduğunu bulunuz.(4 puan)

c) Örüntünün 4. Adımını çiziniz.(3 puan)

4) Aşağıda verilen işlemleri yapınız.(10 puan)

a) $98 \times 100 =$

b) $30 \times 1000 =$

c) $42 \ 000 \div 200 =$

ç) $15 \times 20 =$

d) $5700 \div 30 =$